

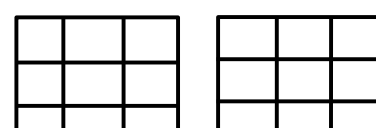
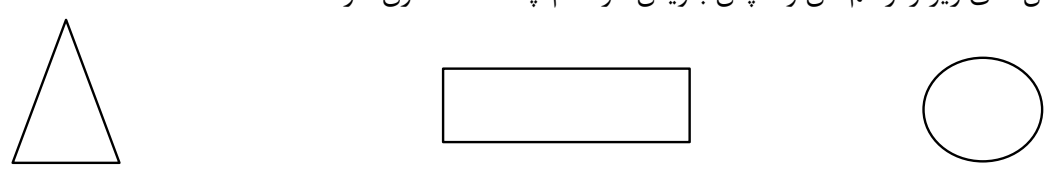


۱	<p>مغازه داری هر بادکنک را ۱۵۰ تومان می خرد و ۱۸۰ تومان می فروشد. با رسم جدول سود به سوالات زیر پاسخ بده.</p> <p>(الف) با فروش ۲ بادکنک چقدر سود می کند؟</p> <p>(ب) او برای اینکه ۹۰ تومان سود کند باید چند بادکنک بفروشد؟</p> <p>(ج) چند بادکنک بفروشد که با سود آن بتواند یک بادکنک بخرد؟</p>
۲	<p>اتوبوسی ساعت ۹ صبح از اصفهان به سمت تبریز حرکت کرد و بعد از ۱۰ ساعت به تبریز رسید. اتوبوس چه ساعتی به تبریز رسیده است؟ (به دو صورت بنویس)</p>
۳	<p>جاهای خالی را پر کن.</p> <p>(الف) ۳۷۴۵ گرم یعنی کیلوگرم و از یک کیلوگرم</p> <p>(ب) بلندی پرده در اتاق ۲ است.</p> <p>(ج) ۲۷ متر و ۴ سانتی متر می شود سانتی متر.</p> <p>(د) زاویه ی راست را با وسیله ی به نام تشخیص می دهیم.</p> <p>(ه) شکل باز شده ی مکعب از مربع تشکیل شده است.</p>
۴	<p>در جاهای خالی علامت مناسب بگذار. <=></p> <p>۲۰۷۰ ○ ۲۰۰۰ ۱۲۰۰ ریال ○ ۲۰۰ تومان ۸۰۰۰ متر ○ ۹ کیلومتر</p> <p>۴ واحد و $\frac{1}{3}$ واحد □ ۴ واحد و $\frac{2}{3}$ واحد $\frac{3}{5}$ ○ $\frac{3}{4}$</p> <p>۲ واحد و $\frac{5}{7}$ واحد □ ۳ واحد و $\frac{2}{7}$ واحد ۱ ○ $\frac{5}{5}$</p> <p>۱ ○ $\frac{1}{8}$</p>
۵	<p>دایره ای به شعاع ۲ سانتی متر رسم کن سپس تساوی $\frac{1}{3} = \frac{2}{6}$ را روی آن نشان بده.</p> <p>(الف) قطر این دایره چند سانتی متر است؟.....</p> <p>(ب) بهترین وسیله برای کشیدن دایره چیست؟.....</p>

<p>به اندازه عددهای داده شده از هر شکل رنگ بزن و برای شکل رنگ شده مقدار مناسب را بنویس.</p>  <p>..... واحد و واحد</p>	 <p>$\frac{1}{4}$</p>	 <p>۱ واحد و $\frac{1}{3}$ واحد</p>	۶
<p>$(5 \times 5) - (2 \times 9) = \dots - \dots = \dots$</p> <p>$54 \div 6 = \dots$</p>	<p>$81 \div 9 = \dots$</p>	<p>عبارت های زیر را کامل کن.</p> <p>$(3 \times 6) + (4 \times 6) = \dots + \dots = \dots$</p> <p>$(8 \times 7) = (\dots \times \dots) + (\dots \times \dots) = \dots$</p>	۷
<p>در کیف پول محمد اسکناس های زیر موجود است. روی هم حساب کن و به <u>تومان</u> بنویس.</p> <p>۶ اسکناس صد ریالی - ۷ اسکناس هزار ریالی - ۲ سکه ده ریالی</p>			۸
<p>کتابخانه ی کلاس سوم ۴ ردیف قفسه دارد. ۳۶ جلد کتاب به طور مساوی در قفسه ها چیده شده است. در هر قفسه چند جلد کتاب قرار دارد؟</p>			۹
<p>نرگس روزی ۶ صفحه کتاب داستان می خواند. او در یک هفته چند صفحه کتاب داستان می خواند؟</p>			۱۰
<p>خط تقارن شکل های زیر را رسم کن و سپس بنویس هر کدام چند خط تقارن دارند؟</p> 			۱۱

بازخورد آموزگار:

۱	۲	۳	۴	سطوح عملکرد	ملاک ها	ردیف
					مفهوم سود و شمارش چندتا چندتا را درک کرده است.	۱
					مفهوم ساعت در بعداز ظهر را تشخیص داده و مسائل مربوط به آن را حل می کند.	۲
					جاهای خالی را به درستی و دقت جواب می دهد.	۳
					مفهوم کسر را یافته و به خوبی فرا گرفته است.	۴
					مفهوم شعاع و قطر را در دایره به خوبی فرا گرفته است.	۵
					تبدیل واحد ها و مسائل مربوط به آن را درک کرده است.	۶
					خاصیت های تقسیم و ضرب را تشخیص می دهد.	۷
					راه حل مسئله ی تقسیم و ضرب را درک کرده است.	۸
					خط تقارن شکل ها را به درستی و کامل رسم کرده است.	۹

جزوه سیپی